

Matematika 1

4. vaja

B. Jurčič Zlobec¹

¹Univerza v Ljubljani,
Fakulteta za Elektrotehniko
1000 Ljubljana, Tržaška 25, Slovenija

Matematika 1 FE, Ljubljana, Slovenija 23. oktober 2012

Definicijsko območje in zaloga vrednosti funkcije $f(x)$

$$f(x) = 1 - |x|.$$

- ▶ Funkcija je definirana za vsak $x \in \mathbb{R}$.
- ▶ $\mathcal{D}_f = \mathbb{R}$.
- ▶ Funkcija je odsekoma linearna in soda, ekstrem ima v 0.
- ▶ $\mathcal{R}_f = (-\infty, 1]$.

Definicijsko območje in zaloga vrednosti funkcije $f(x)$

$$f(x) = 1 - x^2$$

- ▶ Funkcija je definirana za vsak $x \in \mathbb{R}$,
- ▶ $\mathcal{D}_f = \mathbb{R}$.
- ▶ Funkcija je kvadratna, ekstrem ima v točki 0, kjer zavzame vrednost 1.
- ▶ $\mathcal{R}_f = (-\infty, 1]$.

Definicijsko območje in zaloga vrednosti funkcije $f(x)$

$$f(x) = \sqrt{1 - x^2}$$

- ▶ Funkcija je definirana povsod tam, kjer je $1 - x^2 \geq 0$.
- ▶ $\mathcal{D}_f = [-1, 1]$.
- ▶ Podobno kot funkcija $f(x) = 1 - x^2$ zavzame ekstrem (maksimum) v točki 0.
- ▶ $\mathcal{R}_f = [0, 1]$.

Definicijsko območje in zaloga vrednosti funkcije $f(x)$

$$f(x) = \frac{|x|}{1 + |x|}$$

$$\blacktriangleright f(x) = \begin{cases} \frac{-x}{1-x}, & x < 0 \\ \frac{x}{1+x}, & 0 \leq x \end{cases}$$

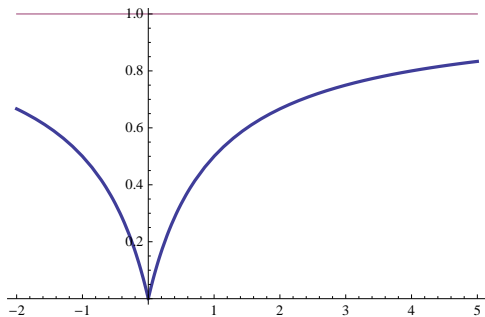
$$\blacktriangleright \lim_{x \rightarrow \infty} f(x) = 1.$$

\blacktriangleright Soda funkcija definirana za vse x , $\mathcal{D}_f = \mathbb{R}$.

$$\blacktriangleright \text{Velja } 0 \leq \frac{|x|}{1+|x|} < 1,$$

$$\blacktriangleright \mathcal{R}_f = [0, 1).$$

Graf funkcije $f(x) = \frac{|x|}{1+|x|}$

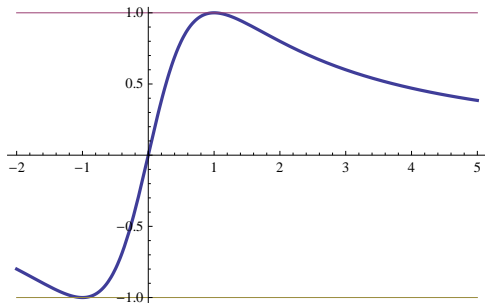


Definicijsko območje in zaloga vrednosti funkcije $f(x)$

$$f(x) = \frac{2x}{1+x^2}$$

- ▶ Funkcija je liha omejena in definirana za vsak realen x .
- ▶ $\mathcal{D}_f = \mathbb{R}$.
- ▶ Zaloga vrednosti je med $[-a, a]$, kjer je a pozitivna vrednost za katero ima kvadratna enačba $\frac{2x}{1+x^2} = a$ dvojno ničlo.
- ▶ $-ax^2 + 2x - a = 0$. Diskriminanta je enaka 0. $4 - 4a^2 = 0$, od tod je iskani $a = 1$,
- ▶ $\mathcal{R}_f = [-1, 1]$.

Graf funkcije $f(x) = \frac{2x}{1+x^2}$

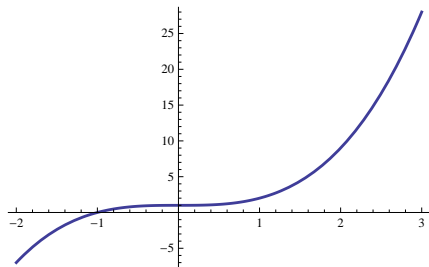


Ugotovi lastnosti funkcije, kot preslikave $f : \mathbb{R} \rightarrow \mathbb{R}$

$$f(x) = 1 + x^3$$

- ▶ Funkcija je definirana za vse $x \in \mathbb{R}$, $\mathcal{D}_f = \mathbb{R}$.
- ▶ Zaloga vrednosti je $\mathcal{R} = \mathbb{R}$.
- ▶ Velja $1 + x^3 = y \rightarrow x^3 = y - 1 \rightarrow x = \text{sign}(y - 1) \sqrt[3]{|y - 1|}$.
- ▶ Torej ima enačba $f(x) = y$ natanko eno realno rešitev za vsak $y \in \mathbb{R}$.
- ▶ Odtod sledi, da je funkcija je bijektivna preslikava $f : \mathbb{R} \rightarrow \mathbb{R}$.

Graf funkcije $f(x) = 1 + x^3$



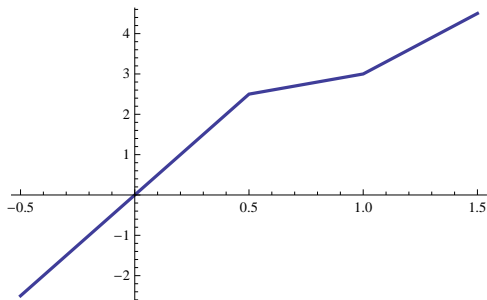
Ugotovi lastnosti funkcije, kot preslikave $f : \mathbb{R} \rightarrow \mathbb{R}$

$$f(x) = 4x + |1 - x| - |1 - 2x|$$

$$\blacktriangleright f(x) = \begin{cases} 5x, & x < \frac{1}{2} \\ x + 2, & \frac{1}{2} \leq x < 1 \\ 3x, & 1 \leq x \end{cases}$$

- ▶ Funkcija je na vsem $\mathcal{D} = \mathbb{R}$ monoton naraščajoča in $\mathcal{R} = \mathbb{R}$.
- ▶ Funkcija je bijektivna preslikava.

Graf funkcije $f(x) = 4x + |1 - x| - |1 - 2x|$



Določi sliko množice \mathcal{A} , $f(\mathcal{A})$, če je:

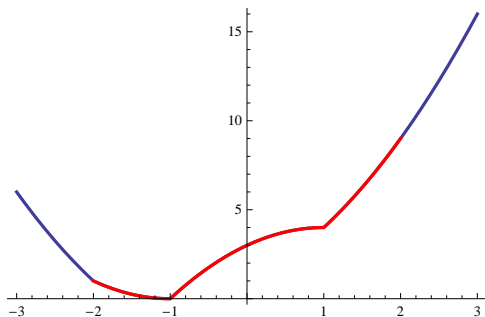
$$f(x) = |x^2 - 1| + |x + 2| + x, \mathcal{A} = (-2, 2)$$

- ▶ Razdelimo realno os na območja glede na predznake izrazov pod absolutnimi vrednostmi.

$$\text{▶ } f(x) = \begin{cases} x^2 - 3, & x < -2 \\ x^2 + 2x + 1, & -2 \leq x < -1 \\ -x^2 + 2x + 3, & -1 \leq x < 1 \\ x^2 + 2x + 1, & 1 \leq x \end{cases}$$

- ▶ Narišemo graf in ugotovimo, da je $f((-2, 2)) = [0, 9)$.

Graf funkcije $f(x) = |x^2 - 1| + |x + 2| + x$

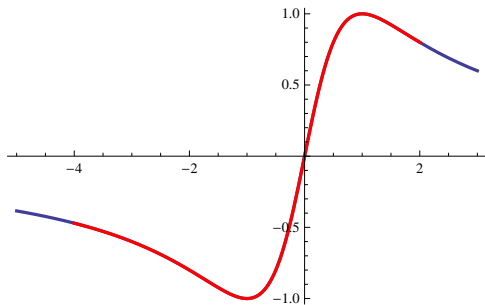


Določi sliko množice \mathcal{A} , $f(\mathcal{A})$, če je:

$$f(x) = \frac{2x}{1+x^2}, \mathcal{A} = (-4, 2).$$

- ▶ Funkcija je liha in zavzame maksimalno vrednost a , kjer ima kvadratna enačba $\frac{2x}{1+x^2} = a$ dvojno ničlo.
- ▶ Diskriminanta je enaka $4 - 4a^2 = 0$, od tod je $a = 1$.
- ▶ Maksimalno vrednost zavzame v točki $x = 1$, ker je liha zavzame minimalno vrednost -1 v točki $x = -1$. Od tod sledi, da je $f((-4, 2)) = [-1, 1]$.

Graf funkcije $f(x) = \frac{2x}{1+x^2}$



Določi sliko množice \mathcal{A} , $f(\mathcal{A})$, če je:

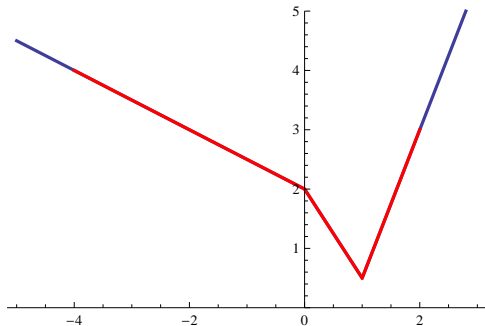
$$f(x) = x + 2|1 - x| - |x|/2, \mathcal{A} = (-4, 2).$$

- ▶ Razdelimo realno os na območja glede na znak izrazov pod absolutnimi vrednostmi.

$$\text{▶ } f(x) = \begin{cases} 2 - \frac{1}{2}x, & x < 0 \\ 2 - \frac{3}{2}x, & 0 \leq x < 1 \\ -2 + \frac{7}{2}x, & 1 \leq x \end{cases}$$

- ▶ Narišemo graf in ugotovimo, da je $f((-4, 2)) = [\frac{1}{2}, 4)$.

Graf funkcije $f(x) = x + 2|1 - x| - |x|/2$



Kompozitum funkcij

- ▶ Dani sta funkciji $f(x)$ z \mathcal{D}_f in \mathcal{R}_f , ter $g(x)$ z \mathcal{D}_g in \mathcal{R}_g .
- ▶ Definijsko območje $g(f(x))$, $\mathcal{D}_{g \circ f}$ je podmnožica \mathcal{D}_f , ki se s funkcijo $f(x)$ preslika v $\mathcal{R}_f \cap \mathcal{D}_g$,
 $f(\mathcal{D}_{g \circ f}) = \mathcal{R}_f \cap \mathcal{D}_g$.
- ▶ Zaloga vrednosti $\mathcal{R}_{g \circ f}$ je podmnožica \mathcal{R}_g , v katero se s funkcijo $g(x)$ preslika $\mathcal{R}_f \cap \mathcal{D}_g$,
 $\mathcal{R}_{g \circ f} = g(\mathcal{R}_f \cap \mathcal{D}_g)$.

Določi kompozituma $f(g(x))$ in $g(f(x))$ če je:

$$f(x) = \frac{1}{x} \text{ in } g(x) = \text{sign}(2 - x).$$

$$\blacktriangleright f(g(x)) = \begin{cases} \frac{1}{x}, & x \in (-\infty, 0) \cup (0, 2) \\ -\frac{1}{x}, & x \in (2, \infty) \end{cases}$$

$$\blacktriangleright g(f(x)) = \begin{cases} \frac{1}{x}, & x \in (-\infty, 0) \cup (0, \frac{1}{2}) \\ 0, & x \in \{\frac{1}{2}\} \\ -\frac{1}{x}, & x \in (\frac{1}{2}, \infty) \end{cases}$$

Določi kompozituma $f(g(x))$ in $g(f(x))$ če je:

$$f(x) = \sqrt{x} \text{ in } g(x) = x^2.$$

- ▶ $f(g(x)) = \sqrt{x^2} = |x|$,
- ▶ $\mathcal{D}_{f \circ g} = \mathbb{R}$, $\mathcal{R}_{f \circ g} = [0, \infty)$.
- ▶ $g(f(x)) = \sqrt{x^2} = x$,
- ▶ $\mathcal{D}_{g \circ f} = [0, \infty)$, $\mathcal{R}_{g \circ f} = [0, \infty)$.

Določi kompozituma $f(g(x))$ in $g(f(x))$ če je:

$$f(x) = 1 + \frac{1}{x} \text{ in } g(x) = \frac{1+x}{1-x}.$$

$$\blacktriangleright f(g(x)) = 1 + \frac{1}{\frac{1+x}{1-x}} = \frac{2}{1+x}.$$

$$\blacktriangleright \mathcal{D}_{f \circ g} = \mathbb{R} \setminus \{-1, 1\}.$$

$$\blacktriangleright \mathcal{R}_{f \circ g} = \mathbb{R} \setminus \{1\}.$$

$$\blacktriangleright g(f(x)) = \frac{1+1+\frac{1}{x}}{1-1-\frac{1}{x}} = -2x - 1.$$

$$\blacktriangleright \mathcal{D}_{g \circ f} = \mathbb{R} \setminus \{0\}.$$

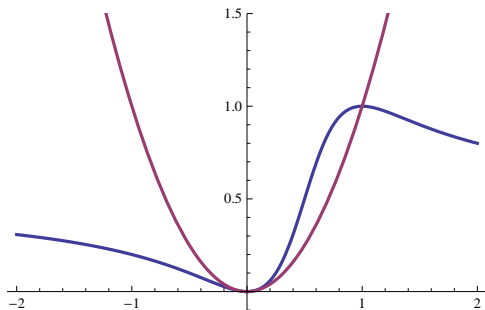
$$\blacktriangleright \mathcal{R}_{g \circ f} = \mathbb{R} \setminus \{-1\}.$$

Določi kompozituma $f(g(x))$ in $g(f(x))$ če je:

$$f(x) = \frac{1}{1+x^2} \text{ in } g(x) = \frac{1-x}{x}.$$

- ▶ $f(g(x)) = \frac{x^2}{1-2x+2x^2}$.
- ▶ $\mathcal{D}_{f \circ g} = \mathbb{R} \setminus \{0\}$.
- ▶ Dvojna rešitev enačbe $\frac{x^2}{1-2x+2x^2} = a \rightarrow a \in \{0, 1\}$.
- ▶ $\mathcal{R}_{f \circ g} = (0, 1]$.
- ▶ $g(f(x)) = x^2$.
- ▶ $\mathcal{D}_{g \circ f} = \mathbb{R}, \mathcal{R}_{g \circ f} = [0, \infty]$

Grafa funkcij $f(g(x))$ in $g(f(x))$



Določi kompozituma $f(g(x))$ in $g(f(x))$ če je:

$$f(x) = \frac{1}{1+x^2} \text{ in } g(x) = \sqrt{\frac{1-x}{x}}.$$

- ▶ $f(g(x)) = \frac{1}{1+\frac{1-x}{x}} = x.$
- ▶ $\mathcal{D}_{f \circ g} = \mathcal{D}_g = (0, 1], \mathcal{R}_{f \circ g} = (0, 1].$
- ▶ $g(f(x)) = \sqrt{\frac{1-\frac{1}{1+x^2}}{\frac{1}{1+x^2}}} = \sqrt{x^2} = |x|.$
- ▶ $\mathcal{D}_{g \circ f} = \mathbb{R}, \mathcal{R}_{g \circ f} = [0, \infty)$

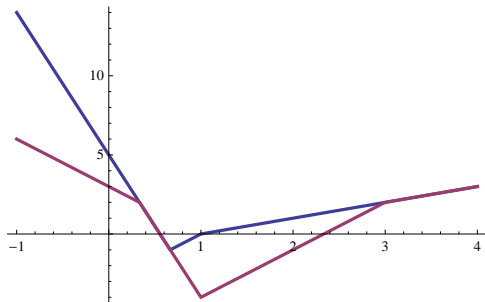
Določi kompozituma $f(g(x))$ in $g(f(x))$ če je:

$$f(x) = -x + 2|1 - x| \text{ in } g(x) = 2x - |x - 1|.$$

$$\blacktriangleright f(g(x)) = \begin{cases} 5 - 9x, x \in (-\infty, \frac{1}{3}] \\ -3 + 3x, x \in [\frac{1}{3}, 1) \\ -1 + x, x \in [1, \infty) \end{cases}$$

$$\blacktriangleright g(f(x)) = \begin{cases} 3 - 3x, x \in (-\infty, \frac{1}{3}] \\ 5 + 9x, x \in [\frac{1}{3}, 1) \\ 7 + 3x, x \in [1, 3) \\ -1 + x, x \in [3, \infty) \end{cases}$$

Grafa funkcij $f(g(x))$ in $g(f(x))$



Inverzna funkcija

- ▶ Dana je obratno enolična funkcija $f(x)$ z definicijskim območjem \mathcal{D}_f in zalogo vrednosti \mathcal{R}_f .
- ▶ Njej inverzna funkcija $f^{-1}(x)$ je definirana s predpisom $x = f(y)$, $y = f^{-1}(x)$.
- ▶ Definijsko območje $\mathcal{D}_{f^{-1}} = \mathcal{R}_f$.
- ▶ Zaloga vrednosti $\mathcal{R}_{f^{-1}} = \mathcal{D}_f$.
- ▶ Graf inverzne funkcije je simetričen grafu prvotne funkcije, os simetrije je $y = x$.

Poišči inverzno funkcijo k funkciji $f(x)$

$$f(x) = 4x + |1 - x| - |1 - 2x| \quad \mathcal{D}_f = \mathbb{R}.$$

► Funkcija je odsekoma linearna sestavljena iz treh delov.

► $f_1(x) = 5x$, $\mathcal{D}_1 = (-\infty, \frac{1}{2})$, $\mathcal{R}_1 = (-\infty, \frac{5}{2})$

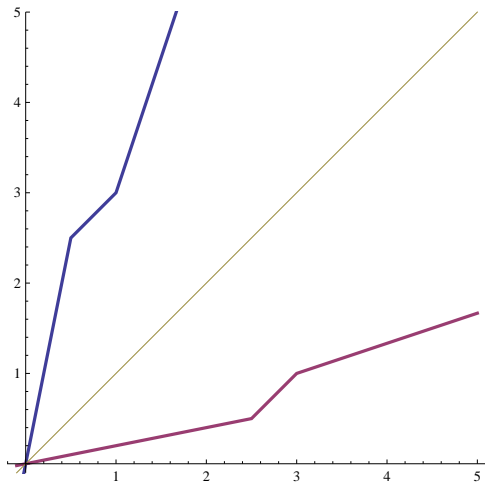
► $f_2(x) = x + 2$, $\mathcal{D}_2 = [\frac{1}{2}, 1)$, $\mathcal{R}_2 = [\frac{5}{2}, 3)$

► $f_3(x) = 3x$, $\mathcal{D}_3 = [1, \infty)$, $\mathcal{R}_3 = [3, \infty)$

► Inverzna funkcija

► $f^{-1}(x) = \begin{cases} \frac{1}{5}x, & x \in (-\infty, \frac{5}{2}] \\ x - 2, & x \in [\frac{5}{2}, 3) \\ \frac{1}{3}x, & x \in [3, \infty) \end{cases}$

Grafa $f(x)$ in $f^{-1}(x)$

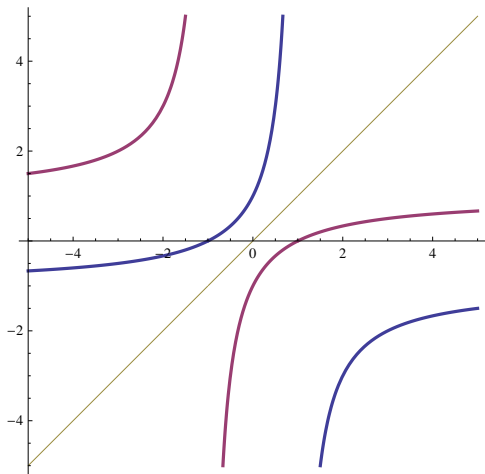


Poišči inverzno funkcijo k funkciji $f(x)$

$$f(x) = \frac{1+x}{1-x} \quad \mathcal{D}_f = \mathbb{R} \setminus \{1\}.$$

- ▶ Predpis $f^{-1}(x)$ je določen z enačbo $x = \frac{1+y}{1-y}$.
- ▶ Izrazimo y iz gornje enačbe in dobimo:
- ▶ $x(1-y) = y+1 \rightarrow y(-x-1) = -x+1, \rightarrow y = \frac{-x+1}{-x-1}$
- ▶ $f^{-1}(x) = \frac{x-1}{1+x}, \mathcal{D}_{f^{-1}} = \mathbb{R} \setminus \{-1\}$

Grafa $f(x)$ in $f^{-1}(x)$

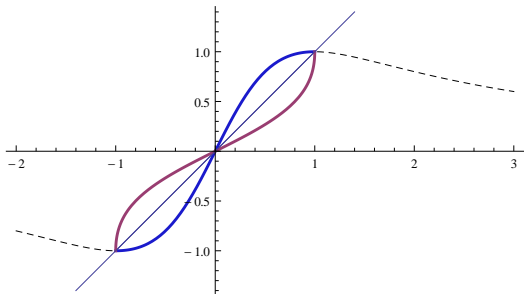


Poišči inverzno funkcijo k funkciji $f(x)$

$$f(x) = \frac{2x}{1+x^2} \quad \mathcal{D}_f = [-1, 1].$$

- ▶ Predpis $f^{-1}(x)$ je določen z enačbo $x = \frac{2y}{1+y^2}$.
- ▶ Izrazimo y iz gornje enačbe. Od dveh rešitev vzamemo tisto, ki je omejena v okolici 0.
- ▶ $x(1+y^2) = 2y \rightarrow xy^2 - 2y + x = 0, \rightarrow y_{1,2} = \frac{2 \pm \sqrt{4-4x^2}}{2x}$.
- ▶ $f^{-1}(x) = \begin{cases} \frac{1-\sqrt{1-x^2}}{x}, & x \neq 0 \\ 0, & x = 0 \end{cases}$
- ▶ $\mathcal{D}_{f^{-1}} = [-1, 1]$

Grafa $f(x)$ in $f^{-1}(x)$



Poišči inverzno funkcijo k funkciji $f(x)$

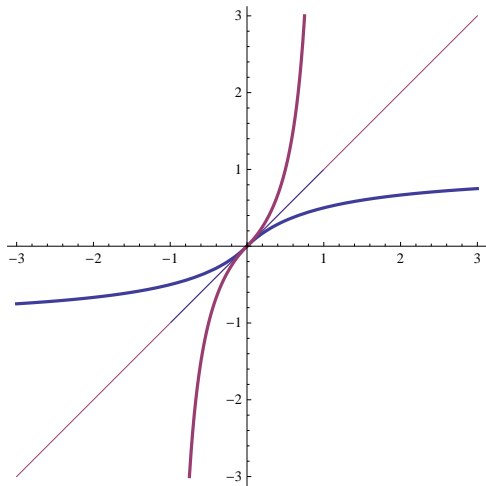
$$f(x) = \frac{x}{1 + |x|} \quad \mathcal{D}_f = \mathbb{R}$$

$$\blacktriangleright f(x) = \begin{cases} \frac{x}{1-x}, & x < 0 \\ \frac{x}{1+x}, & x \geq 0 \end{cases}$$

$$\blacktriangleright f^{-1}(x) = \begin{cases} \frac{x}{1+x}, & x < 0 \\ \frac{x}{1-x}, & x \geq 0 \end{cases}$$

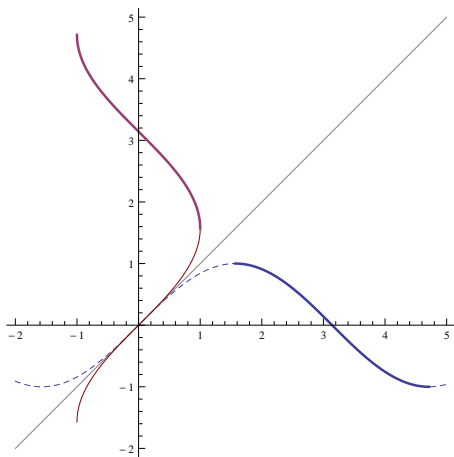
$$\blacktriangleright f^{-1}(x) = \frac{x}{1-|x|}, \quad \mathcal{D}_{f^{-1}} = (-1, 1), \quad \mathcal{R}_{f^{-1}} = \mathbb{R}$$

Grafa $f(x)$ in $f^{-1}(x)$



Poišči inverzno funkcijo k funkciji $f(x)$.

$$f(x) = \sin(x), \quad \mathcal{D}_f = \left[\frac{\pi}{2}, \frac{3\pi}{2}\right].$$



$$f^{-1}(x) = \pi - \arcsin(x), \quad \mathcal{D}_{f^{-1}} = [-1, 1] \text{ in } \mathcal{R}_{f^{-1}} = \left[\frac{\pi}{2}, \frac{3\pi}{2}\right].$$